



GERAKAN PRAMUKA

KWARTIR CABANG KEBUMEN

Alamat : Jalan Tentara Pelajar Nomor 48 Telp.(0287) 382298 - WhatsApp 081 392 666 885
Website : pramuka.kebumenkab.go.id - e-mail : kwarcabkebumenkab@gmail.com - facebook: Humas Kwarcab Kebumen - 54312



NASKAH SOAL LOMBA CEPAT TEPAT PRAMUKA TINGKAT KWARTIR RANTING TAHUN 2022

Tahap : PENYISIHAN
Golongan : PENGGALANG
Hari, tanggal : Sabtu, 19 November 2022
Waktu : 90 menit

Petunjuk umum :

1. Berdoalah dahulu sebelum mengerjakan soal !
2. Tulislah nomor peserta pada lembar jawab !
3. Bacalah setiap soal dengan teliti !
4. Kerjakan dahulu soal yang kamu anggap mudah !
5. Periksa kembali pekerjaanmu sebelum diserahkan kepada Pengawas ruang !

I. Berilah tanda silang (x) pada huruf a, b, c, atau d pada jawaban yang paling benar !

1. Berikut ini merupakan komitmen diri seorang Pramuka Penggalang adalah
a. ketentuan moral
b. Dasa Darma
c. kode kehormatan
d. Tri Satya
2. Seorang Penggalang mempunyai kemampuan membuat beberapa jenis pioneering. Pernyataan di atas merupakan perwujudan Dasa Darma ke-
a. 6
b. 7
c. 8
d. 9
3. Memiliki daya nalar yang baik pada saat merencanakan kegiatan maupun pada saat pelaksanaan kegiatan, serta berhati-hati dalam bertindak. Pernyataan di atas merupakan pengamalan Dasa Darma yang berbunyi
a. Rajin terampil dan gembira
b. Hemat cermat dan bersahaja
c. Bertanggungjawab dan dapat dipercaya
d. Suci dalam pikiran perkataan dan perbuatan

4. Perhatikan kompas berikut!



Pada arah mata angin di samping, arah utara utara timur laut ditunjukkan oleh nomor

- a. 1
 - b. 2
 - c. 3
 - d. 4
5. Bagian permukaan kompas di mana tertera angka derajat dan huruf mata angin adalah
a. visir
b. tutup visir
c. dial
d. tutup dial

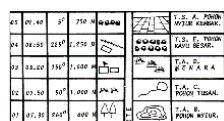
6. Anton mendapatkan tugas dari Kakak Pembina, untuk membidik suatu obyek dengan cek point 60 derajat, maka back azimuth-nya adalah
- 30 derajat
 - 120 derajat
 - 150 derajat
 - 240 derajat
7. Salah satu manfaat kompas bagi Pramuka Penggalang adalah untuk meningkatkan kemampuan teknik kepramukaan (tekpram). Salah satu tekpram yang harus ditunjang dengan penguasaan kompas adalah ...
- semaphore
 - panorama
 - tanda medan
 - tanda jejak
8. Peta yang menggambarkan permukaan bumi lengkap dengan reliefnya adalah....
- peta korografi
 - peta kadaster
 - peta topografi
 - peta tematik
9. Perhatikan gambar di bawah ini!



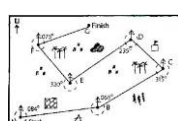
Komponen peta seperti pada gambar di samping disebut ...

- simbol peta
- tanda peta
- legenda
- keterangan

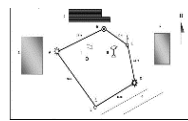
10. Perhatikan gambar di bawah ini!



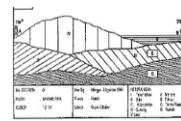
1



2



3




4

Peta Lapangan, Peta Perjalanan, Panorama, dan Peta Pita secara berturut-turut ditunjukkan oleh nomor

- 1, 2, 3, dan 4
 - 3, 2, 4, dan 1
 - 4, 3, 2, dan 1
 - 3, 1, 4, dan 2
11. Arsiran miring pada panorama digunakan untuk obyek
- pohon, pepohonan, bebatuan, sawah, kampung
 - bebatuan, sawah, pantai, ladang
 - pegunungan, gunung, bukit
 - kampung, desa, semak,

12. Perhatikan gambar di bawah ini!



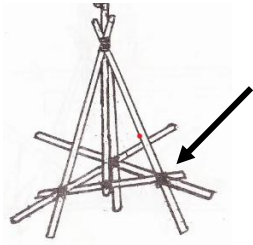
Nama dan kegunaan simpul di samping adalah ...

- Simpul penarik, untuk menarik balok
- Simpul tambat, untuk memulai ikatan palang
- Simpul tambat, untuk memulai ikatan silang
- Simpul pangkal, untuk mengakhiri ikatan

13. Seorang nelayan akan menambatkan perahunya pada sebuah batu karang di pantai agar perahunya tidak terhempas ombak, tetapi ternyata talinya kurang panjang. Dicarinya sebuah tali di suatu kotak. Kebetulan ditemukan seutas tali yang cukup panjang, tetapi ukuran tali yang ditemukan tidak sama besar dengan tali yang sudah ada. Untuk kepentingan tersebut jika kamu membantu menyambunginya, maka menggunakan

- simpul mati
- simpul nelayan
- simpul anyam
- simpul anyam berganda

14. Perhatikan pioneering dibawah ini!



Bagian yang ditunjukkan oleh anak panah secara berturut-turut dibuat menggunakan

- simpul pangkal, ikatan palang, simpul pangkal
- simpul tambat, ikatan silang, simpul pangkal
- simpul tambat, ikatan palang, simpul pangkal
- simpul pangkal, ikatan silang, simpul pangkal

15. Simpul yang berguna untuk mengikat tali pengikat leher binatang ke tiang/pohon agar mudah dilepas adalah

- a. simpul tarik
b. simpul tiang
c. simpul penarik
d. simpul laso

16. Morse dapat disampaikan melalui suara, sinar, dan gerak. Di bawah ini dapat digunakan untuk menyampaikan morse melalui gerak, kecuali....

- a. asap
b. kedipan mata
c. terompet
d. Bendera

17. Perhatikan morse berikut!



Morse di samping menunjukkan arti angka

- a. 2 c. 5
b. 3 d. 8

18. Peerhatikan morse di bawah ini!



- a. primap c. prames
b. pramex d. promes

19. Ukuran panjang bendera morse adalah

- a. 50 cm c. 90 cm
b. 60 cm d. 150 cm

20. Jika pengirim pesan morse menggunakan bendera melakukan kesalahan mengirim pesan, maka si pengirim tersebut mengisyaratkan huruf

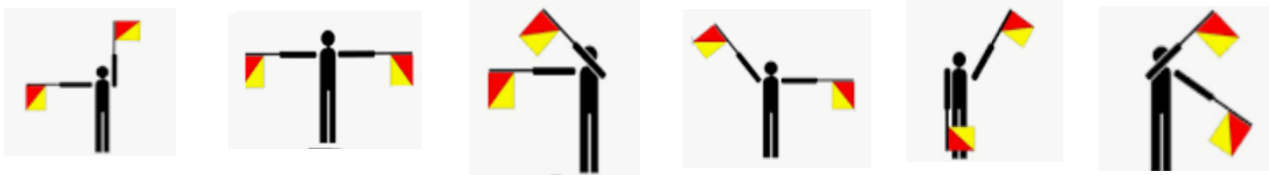
- a. AAA c. K
b. AR d. E (8X)

21. Jika seorang penerima isyarat semaphore, sudah siap menerima pesan, maka si penerima memberikan isyarat

- a. b. c. d.



22. Perhatikan isyarat berikut!



Arti isyarat semaphore di atas adalah

- a. Proyek
- b. Primax
- c. Proyex
- d. Priyat

23. Jika pada semaphore A s.d. G = 1 s.d. 7

R adalah 2/6

Maka 2/6 3/5 1/6 1 1/2 berarti

- a. Risau
- b. Rumah
- c. Ramah
- d. Rusak

24. Perhatikan sandi Berikut !



KALAU ADA SOTO JANGAN DIMAKAN, DIK!

Terjemahkan sandi berikut!

SOUKU SROTO SOLETO BASO ROTO TOSUT NOGOT SATO TOISO

Arti sandi di atas adalah

- a. Soto jangan dimakan
- b. Ukuran lebar dan panjang
- c. Saya membeli sroto dan baso
- d. Ukur lebar sungai

25. Perhatikan sandi berikut!



MERAH PUTIH BENDERAKU

Terjemahkan sandi berikut!

PE MH PM HI TE MP RU AP RI PM UE PE PM RI

Arti sandi di atas adalah ...

- a. Buat pioneering
- b. Merah dan Putih
- c. Buatlah drakbar
- d. Bendera negaraku

26. Perhatikan sandi berikut!



Napoleon sangat berjasa

Terjemahkan sandi berikut!

CATA UHIY RRAN EANH HPMU KHUN AASE NLEP

Arti sandi di atas adalah ...

- a. Curahkan perhatianmu seluruhnya

b. Selamatkanlah jiwa kami
- c. Galang terus persatuan

d. Curahkanlah perhatianmu sepenuhnya

27. Perhatikan sandi berikut!



DI ATAS BAKTI KUMENANTI

B K U A T

B O T A K

T R A O L

K U A S A

S I M A

G A U S

P A N A S

K A B O S

G K U L

B A R U

A L I M

T I U S

Arti sandi di atas adalah

- a. Kami harus berbakti

b. Buat tali pangkal
- c. Berbakti tanpa henti

d. Buat simpul pangkal

28. Perhatikan rambu berikut!



Rambu lalu lintas di samping adalah ...

- a. Larangan masuk bagi kendaraan dengan muatan sumbu kurang dari 5 ton
- b. Larangan masuk bagi kendaraan dengan muatan sumbu lebih dari 5 Ton
- c. Larangan masuk bagi kendaraan yang seluruh berat termasuk muatannya kurang dari 5 ton
- d. Larangan masuk bagi kendaraan yabf seluruh berat termasuk muatannya lebih dari 5 ton

29. Perhatikan penggalan lagu berikut!

Puji syukur pada Tuhan
Atas anugderahnya
Alam yang indah membetang luas
Terhampar di Bumi Kebumen
.....

Judul lagu dan pencipta dari penngalan lagu di atas adalah

- a. Hymne Disdikpora Kab. Kebumen – Slamet Haryadi, S.Pd.I
- b. Hymne Disdikpora Kab. Kebumen – Slamet Pramono, S.Pd.
- c. Hymne Kabupaten Kebumen - Slamet Haryadi, S.Pd.I
- d. Hymne Kabupaten Kebumen - Slamet Parmono, S.,Pd.

30. Perhatikan Tabel berikut!

| No | Nama Fauna | No | Nama Provinsi |
|----|---------------|----|---------------|
| 1 | Elang Bondol | A | Jawa Barat |
| 2 | Kepodang Emas | B | Banten |
| 3 | Macan Tutul | C | DKI Jakarta |
| 4 | Badak | D | Jawa Tengah |
| 5 | Perkutut | E | Jawa Timur |
| 6 | Ayam Bekisar | F | DI Yogyakarta |

Pasangan yang tepat antara nama provinsi dengan identitas fauna yang ada di Pulau Jawa adalah

- a. A3, C1, E5
- b. B4, D2, E6
- c. B4, D2, F6
- d. A3, C6, E5

31. KTT G20 dilaksanakan di Bali pada tanggal

- a. 14 – 15 November 2022
- b. 15 – 16 November 2022
- c. 14 – 16 November 2022
- d. 15 – 17 November 2022

32. Penghargaan yang diberikan kepada insan musik di Indonesia adalah

- a. Piala Citra
- b. Piala Oscar
- c. Grammy Awards
- d. AMI Awards

33. The Stars Spangled Banner, adalah judul lagu kebangsaan negara

- a. Amerika Serikat
- b. Australia
- c. Inggris
- d. Perancis

34. Perhatikan gambar uang berikut!



Nama pahlawan yang terdapat pada mata uang di atas adalah

- a. Sam Ratulangi
- b. Ir. H. Djuanda
- c. Sultan Hasanudin
- d. Patimura

35. Obyek Wisata Pantai Dewa Ruci terdapat di Kabupaten....

- a. Kulon Progo
- b. Purworejo
- c. Kebumen
- d. Cilacap

36. Semasa perang Boer Baden Powell bertugas sebagai staff dari pasukan Kerajaan Inggris (1896 – 1897), menjadi kolonel pasukan berkuda di Afrika Selatan (Pengalaman terkepung oleh bangsa Boer di Kota Mafeking, Afsl selama 127 hari kekurangan makanan), kemudian mengalahkan bangsa Zulu di Afrika dan mengambil kalung manik kayu milik raja Dinizulu. Pengalamannya tersebut ia tulis menjadi sebuah buku dengan judul ...

- a. Rovering To Success
- b. Scouting For Boys
- c. Aids to Scouting
- d. The Jungle Book

37. Suatu peristiwa yang tidak mudah dilupakan adalah kedatangan Lord Baden Powell of Gilwell dan Lady Baden Powell di Indonesia, pada tanggal

- a. 22 Februari 1857
- b. 25 Juli 1907
- c. 6 Agustus 1920
- d. 3 Desember 1934

38. All Indonesian Jamboree atau “Perkemahan Kepanduan Indonesia Oemoem.” di Yogyakarta berlangsung pada tanggal...

- a. 19-23 Juli 1941
- b. 27-29 Desember 1945
- c. 20 Mei 1961
- d. 20 Juli 1961

39. Keppres N0. 238 /1961 tentang Gerakan Pramuka, ditandatangani oleh Ir, H. Djuanda, karena...

- a. Pada saat itu Ir. H. Djuanda menjabat sebagai Perdana Menteri RI
- b. Pada saat itu Ir. H. Djuanda menjabat sebagai Wakil Presiden RI
- c. Pada saat itu Presiden Soekarno sedang berada di luar negeri
- d. Pada saat itu Presiden Soekarno sedang mengalami sakit

40. Pada tahun 1916 organisasi kepanduan Indonesia yang pertama, bernama Javaansche Padvinder Organisatie (JPO) dibentuk oleh
- Sri Sultan Hamengku Buwana IX
 - Mangkunegara VII
 - K.H. Agus Salim
 - Jenderal Sudirman
41. Anggaran Dasar Gerakan Pramuka Tahun 2019, merupakan Keputusan Musyawarah Nasional Gerakan Pramuka Nomor
- Nomor: 13 /Munas/2013
 - Nomor: 15 /Munas/2013
 - Nomor: 07/Munas/2018
 - Nomor: 05/Munas/2018
42. Motto gerakan Pramuka terdapat dalam Anggaran Dasar Gerakan Pramuka Pasal....
- 11
 - 12
 - 13
 - 14

43. Perhatikan pernyataan berikut!

Panji Gerakan Pramuka adalah Panji Gerakan Pendidikan Kepanduan Nasional Indonesia yang dianugerahkan oleh Presiden Republik Indonesia dengan Keputusan Presiden Nomor 448 Tahun 1961, tanggal 14 Agustus 1961.

Pernyataan di atas merupakan bunyi Anggaran Dasar Gerakan Pramuka, yaitu

- BAB VII Pasal 49
 - BAB VII Pasal 50
 - BAB VII Pasal 51
 - BAB VII Pasal 52
44. Pancasila adalah satu-satunya asas Gerakan Pramuka untuk mencapai tujuan. Pernyataan tersebut terdapat dalam Anggaran Rumah Tangga ...
- BAB II Pasal 5
 - BAB II Pasal 6
 - BAB II Pasal 7
 - BAB II Pasal 8



Perhatikan gambar dibawah ini!

45. Salah satu cerminan budaya adalah rumah adat yang terbentuk dari tradisi dalam masyarakat seperti adaptasi atau cara hidup, ekonomi dan religinya. Rumah adat tradisional yang arsitekturnya khas dengan kaya akan ukiran dan patung seolah mencerminkan kehidupan masyarakat dan kepercayaannya yang mereka anut adalah rumah adat provinsi ...
- Bali
 - Lombok
 - Cirebon
 - Wonosobo
46. Upacara adat adalah tradisi yang dianggap memiliki nilai-nilai bagi masyarakat sekitar. Selain sebagai cara manusia untuk berhubungan dengan para leluhur dan Sang Pencipta, upacara adat juga menjadi perwujudan manusia untuk menyesuaikan diri terhadap alam dan lingkungannya. Tradisi Jawa yang ujuannya untuk mensucikan seseorang dari kesalahan adalah ...
- Sedekah laut
 - Sedekah bumi
 - Ruwatan
 - Ngaben
47. Indonesia sudah sangat dikenal dengan kebudayaannya yang sangat beragam. Salah satu kebudayaan yang sampai saat ini masih ada, yaitu kebudayaan tari atau sering disebut oleh banyak orang dengan istilah seni tari. Tarian yang digelar untuk menyambut para tamu pada acara-acara hajatan yang diadakan oleh masyarakat Surakarta adalah ...
- Tari tayub
 - Tari gambyong
 - Tari serimpi
 - Tari sintren

48. Kehidupan masyarakat Papua dari dulu hingga kini masih sangat kental dengan kearifan lokal dan kebudayaan. Selain itu Papua juga terkenal memiliki kebudayaannya yang unik dan menarik. Berikut ini yang bukan termasuk senjata tradisional masyarakat Papua adalah ...
- Busur dan panah
 - Keso-keso
 - Tombak
 - Kapak batu
49. Memasuki era industri 4.0 yang sarat akan digital, tak ayal telah membawa sejumlah perubahan besar dalam sektor ekonomi masyarakat Indonesia, salah satunya dalam industri kreatif. Alif Fakod diketahui sejak berusia 13 tahun, pria yang merupakan lulusan Etnomusikologi di Institut Seni Budaya Indonesia Kalimantan Timur PSDKU Institut Seni Indonesia atau ISI Yogyakarta tersebut, telah mahir memainkan sejumlah alat musik hingga akhirnya memutuskan untuk fokus ke alat musik tradisional Sape. Alat musik yang dimaksud berasal dari provinsi ...
- Sulawesi Selatan
 - Sumatra Barat
 - Kalimantan Timur
 - Yogyakarta
50. Kepanduan ini senafas dengan Pergerakan Nasional. Seiring dengan pergerakan Nasional bermunculan organisasi kepanduan seperti organisasi yang didirikan oleh K.H Ahmad Dahlan pada tahun 1920, organisasi tersebut bernama ...
- Pandu Rakyat Indonesia
 - Hisbul Wathan
 - Ikatan Pandu Indonesia
 - Nederlans Padvinders Organisatie
51. Organisasi kepanduan Indonesia yang dimulai pada tahun 1912 pada waktu pecahnya Perang Duna I, organisasi ini memiliki kwartir terbesar dan berganti nama menjadi NIPV pada tahun 1916, organisasi tersebut bernama
- Nederlans Padvinders Organisatie
 - Pandu Rakyat Indonesia
 - Ikatan Pandu Indonesia
 - Syarejat Islam Afdeling Pandu
52. Sebuah lembaga pendidikan memiliki jenjang SD, SMP, SMA yang berbasis agama. Sekolah tersebut diberi nama Sekolah Islam Terpadu. Gugus depan tersebut termasuk dalam basis ...
- Satuan Pendidikan
 - Komunitas
 - Pelatihan
 - Pesantren

Perhatikan pernyataan berikut!

- Satuan organisasi bagian dari kwartir ranting
 - Wadah berhimpun anggota muda dan dewasa
 - Penyelenggara pendidikan kepramukaan
 - Wadah berhimpun anggota muda
53. Menurut pernyataan diatas yang bukan termasuk dalam pasal 46 Anggaran Rumah Tangga Gerakan Pramuka mengenai Gugus Depan adalah ...
- 1
 - 2
 - 3
 - 4
54. Lembaga yang bertugas memberikan bantuan dan bimbingan secara moril, organisatoris dan finansial kepada gugus depan adalah ...
- Mabigus
 - Mabiran
 - Mabicab
 - Mabida
55. Tegar adalah seorang disabilitas penyandang tuna netra. Dia selalu semangat setiap kali berkegiatan walau dengan kondisi yang kurang sempurna. Sebagai seorang anggota pramuka di sekolah berkebutuhan khusus, Tegar termasuk dalam anggota gugus depan ...
- Komunitas
 - Pendidikan formal
 - Berkebutuhan khusus
 - Pendidikan nonformal

56. Sebuah lembaga pendidikan memiliki jenjang SD, SMP, SMA. Sekolah tersebut diberi nama Sekolah Dirgantara. Jumlah gugus depan yang dimiliki sekolah tersebut adalah ...
- a. 2
 - b. 6
 - c. 3
 - d. 12

Perhatikan pernyataan berikut!

- 1. Dibuat dari bahan warna merah dan putih
 - 2. Berbentuk segitiga sama kaki
 - 3. Dikenakan dengan cincin
 - 4. Dikenakan dibawah kerah baju
57. Menurut pernyataan tersebut, termasuk bagian dalam seragam harian pramuka penggalang berupa ...
- a. Tanda pengenalan
 - b. Tutup kepala
 - c. Setangan leher
 - d. Bendera
58. Pakaian seragam pramuka berwarna coklat muda dibagian atas dan coklat tua di bagian bawah, dengan maksud ...
- a. Lebih dekat tanah
 - b. Seorang pramuka berjiwa patriot
 - c. Pengingat para pahlawan pejuang Indonesia
 - d. Gampang untuk dikenal
59. Seragam pramuka yang dikenakan anggota dimaksudkan untuk menimbulkan daya tarik, mendidik disiplin dan kerapian, menumbuhkan persatuan dan persaudaraan serta rasa bangga anggota gerakan pramuka. Hal ini diatur dalam ...
- a. SK Kwarnas No. 7 Th 2018
 - b. UU No. 12 Th 2010
 - c. SK Kwarnas No. 174 Th 2012
 - d. SK Kwarnas No. 38 Th 2017
60. Baju pada pakaian seragam harian menggunakan lidah bahu. Ukuran lebar lidah bahu tersebut adalah ...
- a. 2,5 cm
 - b. 5 cm
 - c. 3 cm
 - d. 6 cm
61. Seorang anggota pramuka selain sudah tempuh syarat kecakapan umum, agar bisa meningkatkan dan mengembangkan kecakapannya setidaknya memiliki kecakapan khusus. Tegar adalah seorang atlet renang disekolahnya, Tegar secara otomatis sudah bisa tempuh SKK perenang. SKK perenang tersebut masuk ke dalam bidang
- a. Bid. Ketangkasan dan kesehatan
 - b. Bid. Ketrampilan dan teknik pembangunan
 - c. Bid. Patriotisme dan seni budaya
 - d. Bid. Agama, mental, moral, spiritual, pembentukan pribadi dan watak
62. Tempat pemakaian TKK terletak pada seragam pramuka dikenakan di lengan baju sebelah kanan sebanyak-banyaknya 5 buah. Sedangkan sisanya ditempatkan pada tetampan. Lebar tetampan pada pramuka penggalang adalah ...
- a. 8 cm
 - b. 12 cm
 - c. 10 cm
 - d. 15 cm

Perhatikan tabel berikut ini!

| A | B | C | D | E |
|----------------------------------------------------------------|-------------------------------------|-----------------------------------------------------|---------------------------------------------------------------|----------------------------------------------------------------------------|
| Pengatur rumah Pimpinan menyanyi Pelukis pengarang | Shalat Khotib Qori muadzin | Gerak jalan Pengamat Penyelidik Juru layar | Juru masak Menjahit Juru potret Pengendara sepeda | PPPK Juru bahasa Pengatur Lalin Penerima tamu Keamanan kampung |

63. Menurut tabel diatas yang termasuk dalam syarat kecakapan khusus bidang sosial, perikemanusiaan, gotong royong adalah tabel nomor
- a. B

c. D
- b. C

d. E
64. Menurut tabel diatas, warna dasar pada kolom B adalah ...
- a. Hijau

c. Kuning
- b. Putih

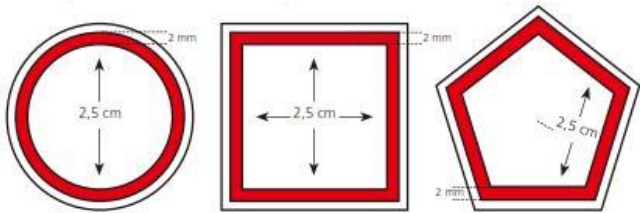
d. Merah



65. Gambar tanda TKK tersebut adalah ...
- a. Pengumpul daun

c. Juru kebun
- b. Petani padi

d. Penyuluh padi



66. Perhatikan gambar diatas, urutan tingkatan TTK diatas adalah
- a. Madya-purwa-utama

b. Utama-madya-purwa
- b. Purwa-madya-utama

d. Siaga-penggalang-penegak
67. Dapat membuat peta perjalanan, peta lapangan, menjelaskan rumus menaksir tinggi, lebar, kecepatan dan kedalaman bunyi SKU ... nomor ...
- a. Ramu; 24

c. Rakit; 25
- b. Rakit; 24

d. Terap; 24
68. Regu Serigala pangkalan sebuah SMP di Kab. Kebumen telah mengikuti Lomba Tingkat di gugus depan dan akan berlanjut ke Lomba Tingkat di kwartir ranting. Menurut Syarat Kecakapan Umum telah ikut serta dalam Lomba Tingkat termasuk dalam SKU ... nomor ...
- a. Ramu; 9

c. Terap;
- b. Rakit; 9

d. Terap; 13
69. Siska seorang pramuka penggalang yang gemar menjaga lingkungan sekitar, Siska sedang menjelaskan bagaimana teknik penjernihan air kepada teman-temannya. Menurut penjelasan tersebut Siska telah tempuh SKU ... nomor ...
- a. Ramu; 22

c. Rakit; 22
- b. Rakit; 21

d. Terap; 22

70. Mayang terurai bertangkai tiga buah pada Tanda Kecakapan Umum (TKU) Penggalang menggambarkan bunga yang sudah mulai berkembang, indah dan menarik mengibaratkan penggalang yang ...
- Sedang tumbuh menjadi calon tunas bangsa
 - Selalu berkaitan dengan keluarga dan orang tua
 - Selaras dan bersatu
 - Riang, lincah, dan bersikap menarik

71. Perhatikan gambar di samping, tanda kecakapan umum penggalang



- Ramu
- Rakit
- Terap
- Garuda

72. Syarat untuk dapat dilantik menjadi anggota Pramuka Penggalang ramu, minimal telah mengikuti latihan rutin selama kali berturut-turut.
- 6
 - 8
 - 7
 - 10
73. Areta seorang pramuka penggalang yang mempunyai bakat di bidang seni beladiri pencak silat. Selain itu dia pernah mengikuti kegiatan Jambore Nasional menjadi wakil kwartir cabang di kabupaten. Untuk menjadi peserta jambore Nasional, Areta telah mencapai kecakapan dan penghargaan tertinggi pada jenjang pendidikan kepramukaan golongan penggalang. Pramuka tertinggi yang dimaksud adalah ...
- Pramuka Penggalang Ramu
 - Pramuka Penggalang Rakit
 - Pramuka Penggalang Terap
 - Pramuka Garuda Penggalang
74. Syarat menjadi seorang pramuka penggalang adalah memiliki TKK sekurang-kurangnya 5 macam dari masing-masing bidang kecakapan khusus sekurang-kurangnya ... dan ...
- 2 Utama; 3 Madya
 - 2 Utama; 2 Madya
 - 3 Utama; 2 Madya
 - 3 Utama; 3 Madya

Perhatikan pernyataan dibawah ini!

- Menjadi contoh yang baik dalam pasukan penggalang
 - Dapat menggunakan komputer
 - Dapat menunjukkan hasta karya
 - Dapat komunikasi dengan bahasa Internasional
 - Pernah mengikuti perkemahan Satu Hari
 - Dapat membuat hasta karya
75. Menurut pernyataan diatas yang bukan termasuk syarat menjadi Pramuka Penggalang Garuda adalah ...
- 1; 4
 - 2; 5
 - 3; 5
 - 3; 4
76. Satya seorang pratama pasukan, ia akan mengumpulkan anggota regunya menggunakan isyarat. Kedua tangan Satya dikepalkan dan ditegakkan di depan dada setinggi bahu. Menurut bentuk barisan Satya mempraktekkan aba-aba ...
- Kolone tertutup
 - Angkare
 - Kolone terbuka
 - Berderet

77. Isyarat formasi barisan setengah lingkaran yang benar adalah



78. Kedua tangan disilangkan di depan badan lalu digerakkan ke samping atas. Barisan dalam bentuk shaf atau banjar, langsung balik kanan dan membubarkan diri. Isyarat formasi barisan tersebut adalah ...

- a. Anak panah
- b. Perlombaan
- c. Bubar barisan
- d. Berderet

79. Pertemuan pramuka penggalang terbesar ini bertemakan “Ceria, Berdedikasi dan Berprestasi” yang bertempat di Bumi Perkemahan dan Graha Wisata Pramuka (Buperta) Cibubur, Jakarta Timur bulan Agustus lalu. Kegiatan ini diharapkan agar seluruh peserta dapat menanamkan persaudaraan dengan peserta lainnya. Hal ini juga berguna untuk memupuk rasa persatuan dan kesatuan berdasarkan Pancasila. Pertemuan penggalang yang dimaksud adalah ...

- a. Jambore Nasional
- b. Jambore Daerah
- c. Lomba Tingkat
- d. Gladian Pemimpin Regu

Perhatikan pernyataan berikut!

- 1. Dian Pinsa
- 2. Lomba Tingkat
- 3. Persari
- 4. Gladian Pemimpin Regu
- 5. Jambore
- 6. Raimuna

80. Berikut yang termasuk dalam pertemuan pramuka penggalang adalah ...

- a. 2; 3; 6
- b. 4; 5; 6
- c. 1; 2; 6
- d. 2; 4; 5

81. Kegiatan Pramuka Penggalang yang ditujukan untuk mendidik dan melatih Pemimpin Regu (Pinru) dan Wakil Pemimpin Regu (Wapinru) guna membekali Pemimpin Regu dan Wakil Pemimpin Regu dengan materi – materi kepramukaan, sehingga mereka mempunyai pengetahuan dan ketrampilan yang lebih dibanding anggota pramuka yang lain, serta lebih siap mendampingi teman-temannya saat latihan pramuka. Pertemuan yang dimaksud adalah ...

- a. Dian Pinsa
- b. Jambore
- c. Dian Pinru
- d. Raimuna

82. “Pendidikan kepramukan dalam sistem pendidikan Nasional termasuk dalam jalur pendidikan nonformal” merupakan buyi dari UU No. 10 Th 2010 tentang gerakan pramuka pasal ...

- a. Pasal 8 Bab III
- b. Pasal 11 Bab III
- c. Pasal 4 Bab II
- d. Pasal 3 Bab II

83. Dalam Bab VI UU No. 10 Th 2010 tentang Gerakan Pramuka setiap peserta didik berhak untuk ...

- a. Mengikuti pendidikan Kepramukaan
- b. Iuran anggota sesuai dengan kemampuan
- c. Menetapkan rencana kerja strategis organisasi
- d. Menerima bantuan dari pihak orang

84. Bela negara adalah sikap dan perilaku warga negara yang dijiwai oleh kecintaan seorang pramuka kepada NKRI berdasarkan Pancasila dan UUD 1945 dalam menjalin kelangsungan hidup bangsa dan negara dengan fungsi mempertahankan negara dari berbagai ancaman luar maupun dalam. Pernyataan tersebut termasuk dalam UUD 1945 pasal ...
- Pasal 27 ayat 1
 - Pasal 27 ayat 3
 - Pasal 27 ayat 2
 - Pasal 28
85. Sekolah Luar Biasa (SLB) merupakan suatu lembaga yang secara khusus mendidik peserta didik yang memiliki kebutuhan khusus. Oleh karena itu, SLB sangat diperlukan masyarakat dalam pembangunan dibidang pendidikan. Anak-anak berkebutuhan khusus berhak memperoleh pendidikan dengan adil dan merata. Wacana tersebut merupakan salah satu bentuk hak warga negara yang tercantum dalam UUD 1945 yaitu ...
- Pasal 34 ayat 3
 - Pasal 32 ayat 1
 - Pasal 33 ayat 3
 - Pasal 31 ayat 5
86. Kehidupan beragama dalam pramuka diarahkan dalam rangka terbentuknya pribadi yang beriman dan bertaqwa, meningkatkan peran serta inisiatif para siswa untuk menjaga dan membina diri sehingga terhindar dari pengaruh budaya yang bertentangan dengan nilai-nilai agama. Pernyataan tersebut pencerminan dalam UUD 1945 pasal ...
- 30
 - 28
 - 29
 - 27
87. Sekolah kami mengadakan kunjungan wisata ke Sumatera Barat. Salah satunya adalah Danau Maninjau. Danau Maninjau sangat indah, kami menyempatkan berjalan di tepi danau dan merasakan segarnya air danau, temanku menuliskan sebuah kalimat pada secari kertas. Kertas tersebut dimasukkan kedalam botol dan siap dilempar ke tengah danau. Pemandu wisata kami berteriak, "Indak bukiah mambuang sarok disikal" kami bingung dan salin berpandangan. Melihat kebingungan kami, ia mengulangi dengan bahasa Indonesia. "Jangan membuang sampah sembarangan!". Dengan peristiwa tersebut pemandu wisata telah mengamalkan satu sila dalam Pancasila yaitu ...
- Padi dan kapas
 - Pohon Beringin
 - Rantai
 - Kepala Banteng
88. Dalam kehidupan berbangsa nilai-nilai Pancasila dapat diaktualisasikan melalui perbuatan-perbuatan berikut:
- Bersikap toleran dengan pemeluk agama lain
 - Menghargai harkat dan martabat sesama manusia
 - Suka menggunakan produk-produk dalam negeri
 - Bersikap hemat dalam kehidupan sehari-hari
 - Mengembangkan sikap adil terhadap sesama
- Diantara perbuatan-perbuatan tersebut yang merupakan aktualisasi sila ke 5 adalah...
- 1 dan 3
 - 3 dan 5
 - 2 dan 5
 - 4 dan 5
89. Pancasila dapat mempersatukan bangsa Indonesia dan memberi petunjuk dalam mencapai kesejahteraan dan kebahagiaan lahir dan batin bagi masyarakat Indonesia yang beraneka ragam sifatnya. Dari pernyataan tersebut, Pancasila berfungsi sebagai ...
- Pandangan hidup bangsa Indonesia
 - Kepribadian bangsa
 - Perjanjian luhur
 - Dasar negara
90. Berikut yang bukan nama menteri kabinet presiden Joko Widodo 2019-2024?
- Bambang Seosatyo
 - Prabowo Subianto
 - Nadiem Makariem
 - dr. Terawan
91. Pengesahan UU Cipta Kerja berlangsung kilat dan menyisakan masalah yakni dugaan perubahan substansi yang melanggar aturan. Presiden Joko Widodo mempunyai waktu 1 bulan untuk menetapkan UU Cipta Kerja setelah rapat paripurna yang dipimpin oleh Puan Maharani yang menjabat sebagai ... selesai dibahas.

- a. Menteri dalam negeri
- b. Ketua MPR
- c. Ketua DPR
- d. Jaksa Agung

92. Pemerintahan ini telah mengawal agenda reformasi 1998 dalam pemerintahan yang kental dengan kultur orde baru. Pemerintahan yang terbilang sangat singkat ini mampu melakukan gebrakan reformis-dialektis dalam bidang ekonomi, politik, hukum dan HAM serta kajian perempuan. Sosok presiden RI yang dimaksud ...

- a. Soeharto
- b. Abdurahman Wakhid
- c. BJ. Habibie
- d. Megawati Soekarno Putri

Perhatikan gambar berikut!



93. Daun muda dari tanaman di samping memiliki khasiat

- a. Meredakan gejala demam
- b. Meredakan gejala diare
- c. Mengurangi rasa sakit kepala
- d. Menurunkan tekanan darah tinggi

Perhatikan gambar berikut



94. Daun di samping memiliki khasiat sebagai antiseptik, mengobati diabetes, asam urat, kolesterol, batu ginjal, stroke. Daun tersebut adalah...

- a. Kuningan
- b. Talas
- c. GajahCente
- d. Sirih

95. Rimpang yang dapat digunakan untuk membantu meredakan batuk adalah...

- a. Jeruk nipis
- b. Kencur
- c. daun salam
- d. kayu manis

96. Perhatikan atribut di bawah ini !



Tanda pengenal (atribut) di atas, dipasang pada baju Pramuka di

- a. Saku sebelah kiri
- b. Lengan kiri
- c. Saku sebelah kanan
- d. Lengan kanan

97. Bedge Kwarda digunakan sebagai atribut seragam Pramuka yang dipasang pada baju bagian
- a. dada sebelah kanan di atas papan nama
 - b. lengan sebelah kiri
 - c. dada sebelah kiri di atas saku
 - d. lengan sebelah kanan
98. Tanda Pandu sedunia (WOSM) putera digunakan sebagai atribut seragam Pramuka yang dipasang pada baju bagian
- a. dada sebelah kanan di atas papan nama
 - b. dada sebelah kiri di atas saku
 - c. dada sebelah kanan di bawah papan nama
 - d. dada sebelah kanan tepat pada saku
99. Organisasi antar pemerintah yang bertujuan untuk membuat perdagangan antar negara semakin terbuka dengan penurunan bahkan peniadaan hambatan tarif maupun non tarif adalah ...
- a. WTO
 - b. WFP
 - c. ISO
 - d. OPEC
100. Indonesia bergabung menjadi anggota ASEAN pada tahun
- a. 1965
 - b. 1966
 - c. 1967
 - d. 1968

SOAL CADANGAN BAGI YANG MELAKSANAKAN PAPER TEST
(Wajib dijawab)

Jawablah soal-soal di bawah ini dengan benar!

1. Tuliskan bunyi Janji Pramuka Penngalang secara lengkap!
2. Sebutkan syarat-syarat Pramuka Garuda Golongan Penngalang
3. Sebutkan 5 macam tanda pengenalan dalam Gerakan Pramuka dan berikan contohnya!
4. Sebutkan 5 kelompok TKK dan apa warna dasarnya!
5. Sebutkan jenis arsiran pada panorama!